

Área de conhecimento: Ciências Humanas e suas Tecnologias

Disciplina: Geografia

Professor: Viviane Moreira Maciel

Atividade: Roteiro e Atividades de Recuperação



Aluno:

Série: 2A e 2B

ROTEIRO DE ESTUDO – GEOGRAFIA

GEOGRAFIA HUMANA E ECONÔMICA

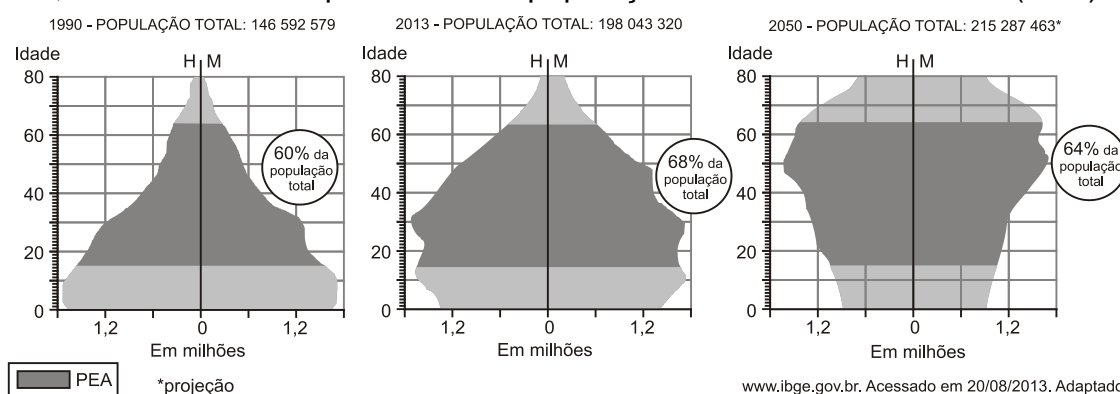
- O estudo da população;
- O processo de urbanização;
- O estudo das migrações no Brasil e no mundo;
- Movimentos Sociais

Critérios de avaliação:

- Pontualidade da entrega.
- Capricho.
- Manuscrito.
- Letra legível.
- Não rasure.

Questão 1

Os gráficos abaixo representam a composição da população brasileira, por sexo e idade, nos anos de 1990 e 2013, bem como sua projeção para 2050. Observe que, para cada ano, está destacado o percentual da população economicamente ativa (PEA).



Com base nas informações acima e em seus conhecimentos, atenda ao que se pede.

a) Na atualidade, o Brasil encontra-se no período denominado “janela demográfica”. Caracterize esse período.

b) Analise a pirâmide etária de 2050 e cite duas medidas que poderão ser tomadas pelo governo brasileiro para garantir o bem-estar da população nesse contexto demográfico. Explique.

Questão 2

Graças ao tamanho continental e à imensa população do país, as políticas implementadas pelo governo permitiram à China combinar as vantagens da industrialização voltada para a exportação, induzida em grande parte pelo investimento estrangeiro, com as vantagens de uma economia nacional centrada em si mesma e protegida informalmente pelo idioma, pelos costumes, pelas instituições e pelas redes, aos quais os estrangeiros só tinham acesso por intermediários locais. Uma boa ilustração dessa combinação são as imensas ZPEs que o governo da China ergueu do nada e que hoje abrigam dois terços do total mundial de trabalhadores em zonas desse tipo.

(Adaptado de Giovanni Arrighi, *Adam Smith em Pequim: origens e fundamentos do século XXI*. São Paulo: Boitempo, 2008, p.362.)

Indique duas ações políticas do governo chinês que produziram as condições internas para a ascensão econômica do país.

Questão 3

“O fenômeno da mestiçagem étnica e cultural que compõe a realidade de nossa região desde a origem da colonização povoa nossas cidades, nossas ruas, nossos campos; é uma realidade cotidiana, multiforme e sempre presente que unifica pessoas e formas expressas nas paisagens urbanas e rurais”.

A migração possibilita a existência do fenômeno citado no texto. Estabeleça a relação, do ponto de vista geográfico, entre migração e mestiçagem étnica e cultural.

Apresente dois exemplos de miscigenação étnica e cultural existentes, atualmente, na América Latina.

Questão 4

As mulheres, a imigração. Quase nada mudou...

Uma das tragédias que marcam o mundo do trabalho feminino em tempos modernos foi o incêndio ocorrido, em Nova York, no dia 25 de março de 1911, na grande fábrica de blusas femininas Triangle Shirtwaist Factory. 80% dos trabalhadores da fábrica eram jovens mulheres e meninas de 15 a 18 anos, subcontratadas por empreiteiros terceirizados, ganhando centavos por peça produzida. A maior parte delas morreu. Cem anos após a tragédia, estudos revelam que 67% das empresas de vestuário de Los Angeles e 63% de Nova York não pagam o salário mínimo, nem respeitam o horário de trabalho de suas costureiras, em sua maioria, asiáticas e latino-americanas. Em São Paulo, há inúmeras confecções clandestinas, com imigrantes da Bolívia, Paraguai e Ásia trabalhando 14, 16 horas por dia, ganhando miséria por peça. Muitos dormem no lugar de trabalho, sem qualquer proteção da lei.

(Adaptado de Mauro Santayana, Coluna Documento, *Jornal do Brasil*, 14 de março de 2010, p. A14).

Identifique uma condição do gênero feminino que é levada em consideração pela atual legislação brasileira que rege o trabalho.

Questão 5

Em novembro de 2010, o Instituto Brasileiro de Geografia e Estatística (IBGE) anunciou os primeiros resultados do último Censo. A população brasileira atingiu 190.732.694 habitantes. O aumento de 12,3% da população nos últimos 10 anos ficou bem abaixo dos 15,6% observados na década anterior. A redução no ritmo de crescimento da população brasileira é uma tendência que vem sendo registrada desde os anos 1950.

O Censo revelou, ainda, que continua o crescimento da população urbana, o surgimento de novos fluxos migratórios, o envelhecimento populacional, o predomínio da população feminina, dentre outros. SOMOS..., 2011, p. 53).

Cite **duas razões** que contribuíram ainda mais para a redução no ritmo de crescimento da população absoluta, no Brasil, na última década;

Questão 6

"...uma senhora dirigia um automóvel com o filho ao lado. De repente, foi assaltada por um adolescente, que a roubou, ameaçando cortar a garganta do garoto. Dias depois, a mesma senhora reconhece o assaltante na rua. Acelera o carro, atropela-o e mata-o, com a aprovação dos que presenciaram a cena. Verídica, ou não, a história é exemplar. Ilustra o que é a cultura da violência, sua nova feição no Brasil."

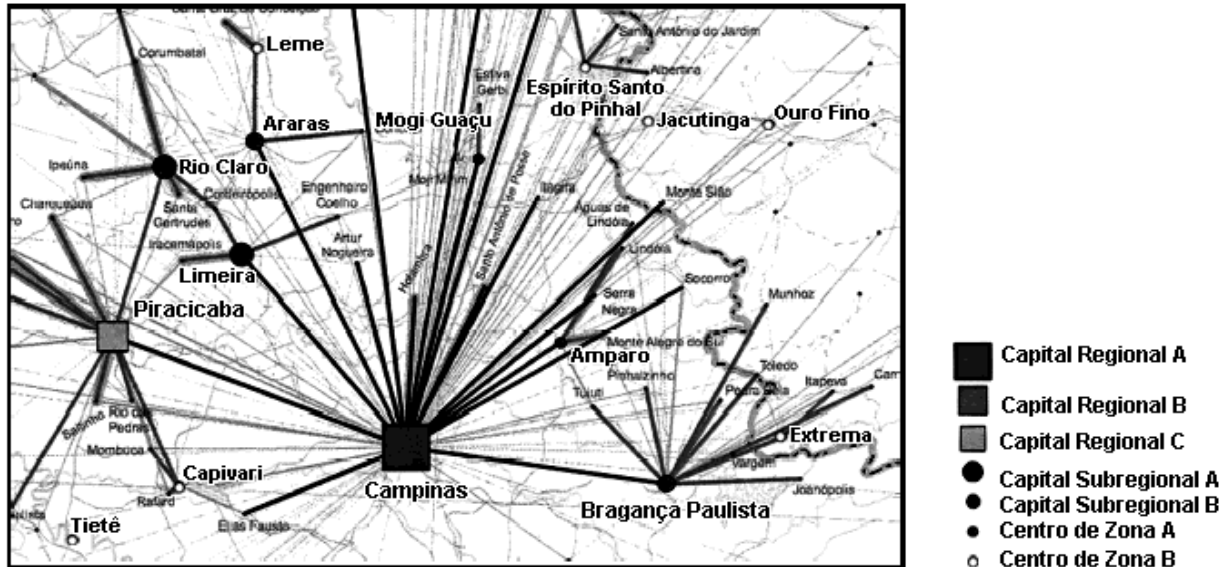
(Jurandir Freire Costa - Revista "Veja", Nº 25, Setembro de 1993).

O texto ilustra o grau em que se encontra a violência nas grandes metrópoles brasileiras.

Explique a relação entre a violência e as características do crescimento das cidades brasileiras.

Questão 7

Na teoria urbana clássica, a hierarquia é considerada um dos principais componentes da estrutura da rede de cidades. A figura a seguir apresenta cidades com diferentes níveis hierárquicos.



Explique o que determina o nível hierárquico das cidades na rede urbana.

Questão 8

Na América Latina, onde o espaço público das cidades é tradicionalmente importante (modelo europeu), com lugares de mistura social (centros das cidades, praias), assiste-se mais e mais uma evolução à americana. A população mais abastada vive em circuitos inteiramente privatizados: as residências estão em ambientes fechados, as crianças frequentam escolas privadas (...) as compras e o lazer se dão em centros comerciais vigiados. Para ir de um lugar privado a outro, o automóvel joga um papel especial...

(Allain Musset et al. *Geopolítica das Américas*, 2009. Adaptado.)

Análise o fenômeno descrito ocorre em algumas cidades brasileiras.

Em que tipos de cidades esse fenômeno ocorre?

Questão 9

Explique a relação entre o processo de urbanização das cidades brasileiras, a industrialização juntamente com a mecanização do espaço rural.

Questão 10

Em vigor desde 2001, a Lei federal nº 10.257, conhecida como Estatuto da Cidade, dispõe sobre o princípio da função social da propriedade urbana e regulamenta uma série de instrumentos de intervenção pública sobre o uso do solo das cidades, voltados, entre outras coisas, para coibir a especulação imobiliária. Sobre essa lei, responda:

a) O que se entende na lei por “função social da propriedade urbana”?

b) Comente pelo menos uma situação de uso do solo urbano que não cumpra essa função expressa na lei.

c) De que modo a situação mencionada no item anterior pode afetar negativamente o conjunto da cidade?

Questão 11

Observe a imagem.

As ocupações de imóveis fechados tornaram-se frequentes nas grandes cidades brasileiras. A imagem acima retrata a ação da Polícia Militar na reintegração de posse de um edifício na Avenida São João, na cidade de São Paulo, ocupado havia seis meses por aproximadamente 200 famílias de sem teto.



Fonte: <http://www.viomundo.com.br/politica/caio-castor-imagens-bombardeio-centro-de-sao-paulo.html>. Acessado em 25/09/2014.

a) Por que alguns movimentos sociais decidem pelas ocupações urbanas?

b) Além dos movimentos sociais, indique um agente econômico e um agente político diretamente envolvidos nos conflitos ensejados pelas ocupações urbanas.



(<http://frees-explica.blogspot.com.br>)

Questão 12

O fenômeno não é novo e nem universal e, nas duas últimas décadas, adquiriu uma escala internacional. Apesar de não serem novidade, os loteamentos murados e os condomínios fechados produziram, em função da sua escala e de sua extensão, uma nova morfologia urbana. Assemelham-se em várias cidades do mundo e têm a singularidade de ser um produto imobiliário com barreiras físicas que impedem a entrada dos não “credenciados”.

(Arlete Moysés Rodrigues. Loteamentos murados e condomínios fechados. In: Pedro de Almeida Vasconcelos et al. (orgs.). *A cidade contemporânea*, 2013. Adaptado.)

Indique dois fatores que contribuíram para a proliferação dos condomínios fechados e dos loteamentos murados.

Aponte duas consequências resultantes da instalação desses empreendimentos imobiliários para as cidades brasileiras.

Questão 13

São Paulo – Rodízio municipal de veículos. A cidade tem restrição à circulação de veículos de segunda a sexta-feira das 7h às 10h e das 17h às 20h, determinada pelo último número da placa do veículo. Não circulam placas terminadas em 1 e 2 às segundas-feiras; 3 e 4 às terças-feiras; 5 e 6 às quartas-feiras; 7 e 8 às quintas-feiras e 9 e 0 às sextas-feiras.

Disponível em: <<http://www.cidadedesaopaulo.com/sp/br/transportes/rodizio-municipal-de-veiculos>>. Acesso em: jul. 2012 (fragmento).

O rodízio de veículos em São Paulo foi instituído, entre outros fatores, para diminuir o tráfego de veículos, melhorando o trânsito e a qualidade do ar nos horários de maior movimento. A qualidade do ar é comumente comprometida pelo excesso de poluição, que atinge níveis críticos, principalmente quando ocorre o fenômeno meteorológico conhecido como inversão térmica. Sobre esse fenômeno, faça o que se pede:

a) O que é inversão térmica e por que ela contribui para o aumento da concentração de poluentes na atmosfera urbana em grandes cidades como São Paulo?

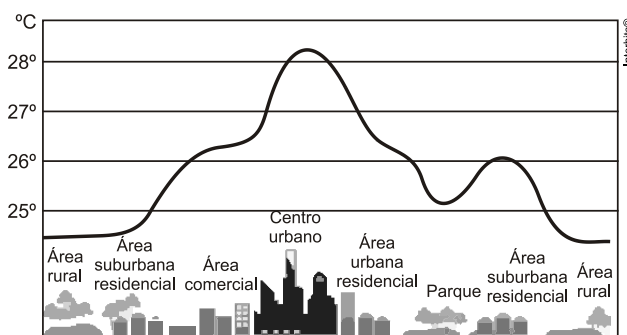
b) Explique por que a inversão térmica ocorre principalmente nos meses de inverno e dias frios.

Questão 14

Quais transformações a industrialização trouxe para a organização espacial brasileira?

Questão 15

As cidades são aglomerados humanos que surgem, crescem e se desenvolvem de acordo com uma dinâmica espacial definida por circunstâncias históricas, socioeconômicas e ambientais. O processo de industrialização e a urbanização têm provocado o crescimento



Fonte: Adaptado de Clinton Foundation, 2010.

acelerado das cidades, bem como profundas alterações em sua superfície e em suas formas horizontais e verticais, o que resulta, quase sempre, em fontes adicionais de calor, sobretudo nas grandes cidades.

a) Qual o nome do problema ambiental representado na figura?

b) Explique os fatores que justificam o aumento da temperatura na área urbana e sua diminuição na área rural.

c) Indique duas alternativas ambientalmente corretas que podem ser implementadas nas cidades para minimizar, ou até mesmo, solucionar o aumento da temperatura.

Questão 16

A rápida industrialização, o crescimento populacional acelerado e o êxodo rural, de um lado, e a falta de investimentos públicos, a pobreza e a inexistência de políticas de controle ambiental, de outro, explicam a crítica situação do ambiente nas cidades brasileiras.

(COELHO, M. de A.; TERRA, L. *Geografia do Brasil*. Editora Moderna: São Paulo, 2002.)

Explique quais são os problemas ambientais existentes nas cidades brasileiras, citando exemplos concretos dos problemas de uma cidade em particular.

Questão 17

A globalização como processo caracteriza-se pela difusão de tecnologias por meio de inúmeros recursos de comunicação, com a disseminação de padrões de consumo, a internacionalização da economia, a interação entre as nações e suas culturas e o acirramento das diferenças socioeconômicas e culturais. Um dos efeitos da globalização é a ampliação do número de migrantes que, embora existissem, cresceram muito nas últimas décadas. O fluxo da migração internacional direcionou-se sobremaneira aos países de rendimento elevado. Segundo o Relatório de Desenvolvimento Humano de 2004, em 1960, eram 76 milhões de migrantes; em 1990, esse número cresceu para 154 milhões e, em 2000, para 175 milhões. Tendo em vista o contexto em questão,

a) apresente uma causa que impulsiona a migração internacional e um impacto desse processo na vida dos migrantes;

b) apresente e explique um dos efeitos da migração internacional em um país subdesenvolvido.

Questão 18

Em 2010, o país possuía 6.329 aglomerados subnormais (assentamentos irregulares conhecidos como favelas, invasões, grotas, baixadas, comunidades, vilas, ressacas, mocambos, palafitas, entre outros) em 323 dos 5.565 municípios brasileiros. Eles concentravam 6,0% da população brasileira (11.425.644 pessoas), distribuídos em 3.224.529 domicílios particulares ocupados (5,6% do total). Vinte regiões metropolitanas concentravam 88,6% desses domicílios, e quase metade (49,8%) dos domicílios de aglomerados estavam na Região Sudeste.

IBGE. Censo 2010. Disponível em: <www.ibge.gov.br/home/presidencia/noticias/noticia_visualiza.php?id_noticia=2051>. Acesso em: 19 jan. 2012.

Considerando-se as condições subnormais em que vive parte considerável da população brasileira,

Apresente duas consequências para a saúde da população que vive na situação descrita pelo texto, nas grandes cidades brasileiras.

Questão 19

No processo brasileiro de urbanização, a apropriação da terra segue a tendência de sua valorização, atendendo aos interesses de reprodução do capital. Nessa lógica, observa-se, por um lado, que o uso do solo causa efeitos na constituição das formas dos espaços construídos nas cidades. Por outro lado, assinala-se que, na caracterização dessas paisagens, a valorização da terra promove impactos na organização dos espaços internos dos centros urbanos. Enfim, essas cidades apresentam paisagens próprias ou singulares, visíveis em sua organização espacial, que se relacionam diretamente com a estrutura socioeconômica da população.

A partir do exposto, identifique as consequências resultantes do processo de urbanização nas cidades brasileiras, analise as afirmativas e **MARQUE V para verdadeiro ou F para falso**.

- a) () Segregação urbana, retratando a espacialização dos espaços orientados para fins de moradia, segundo os respectivos níveis de renda de cada fração da população.
- b) () Segregação urbana, traduzindo a fragmentação do *habitat* nas cidades, conforme a divisão da população em classes sociais, habitando zonas, bairros e outras áreas urbanas correspondentes.

- c) () Exclusão urbana, revelando a marginalização das áreas nos bairros mais pobres, tipo favelas e invasões, frente aos bairros de extrema riqueza e privilegiados, realidade essa originada pela alta concentração de renda.
- d) () Articulação urbana, retratando a ligação dos bairros ao centro tradicionalmente de comércio e de serviços, através dos principais eixos de circulação, favorecendo, assim, um desenvolvimento dinâmico e articulado de toda a economia urbana.
- e) () Integração urbana, demonstrando a ligação entre todas as zonas, bairros e demais áreas das cidades, independente do padrão de renda do conjunto de sua população, potencializando, assim, uma paisagem socialmente harmônica e dinâmica.

Questão 20

Sobre a distribuição e o crescimento da população mundial, analise as afirmativas e **MARQUE (V) para verdadeiro ou (F) para falso.**

() Em geral, o crescimento demográfico é bem menor nas áreas com fraca industrialização e grande população rural do que em áreas com forte industrialização e grande população urbana.

() O crescimento vegetativo de um país é a diferença entre o número de pessoas que saíram do país (imigrantes) e o número de pessoas que entraram no país (emigrantes).

() Considera-se mortalidade infantil o número de crianças não vacinadas que morrem antes de completar doze anos, idade em que a criança entra na fase da adolescência.

() A Teoria Malthusiana, formulada no final do século XVIII pelo pastor Thomas Robert Malthus, relatava que a produção mundial de alimentos cresceria em progressão aritmética, enquanto a população mundial cresceria em progressão geométrica.

() Considere que a Índia tenha 1.145.000.000 de habitantes e uma densidade demográfica de 370 habitantes por km² e que Bangladesh tenha 154.000 habitantes e uma densidade demográfica de 1.090 habitantes por km². A partir dessas informações, pode-se afirmar que Bangladesh é mais povoada do que a Índia.

Questão 21

O surgimento da bioética coincidiu com o clamor generalizado levantado pelos horrores da Segunda Guerra Mundial, reação que culminou com a Declaração Universal dos Direitos Humanos. O objetivo primordial da bioética se baseia no princípio humanista de afirmar a primazia do ser humano e defender a dignidade e a liberdade inerentes ao mero fato de pertencer à espécie.

(Adaptado de: BERGEL, S. Desafios da bioética. *Planeta*. ano 40, 472.ed., jan. 2012, p.70.)

No Brasil, os fluxos migratórios no século XIX e início do século XX marcaram a política de construção de uma “identidade brasileira” que se assentava na ideia de “branqueamento da raça”.

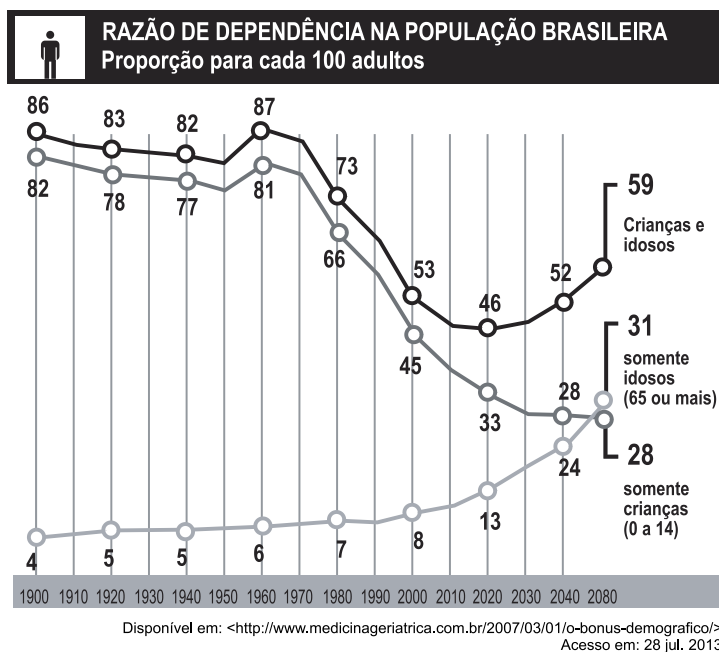
Com relação à influência dos processos migratórios desse período na formação populacional brasileira, **atribua V (verdadeiro) ou F (falso)** às afirmativas a seguir.

- I. () As políticas migratórias oficiais, na segunda metade do século XIX, ressaltaram o interesse de preservar a ascendência europeia na composição étnica da população.
- II. () As políticas migratórias pautavam-se por um “modelo ideal de trabalhador”, no qual predominava a forma capitalista de produção.
- III. () As imigrações europeia e asiática tiveram como propósito a ocupação das vagas ociosas na indústria nascente, diante da ausência de qualificação dos escravos.
- IV. () A imigração japonesa no Paraná foi favorecida pela fácil adaptação dos japoneses aos costumes ocidentais e por serem habituados ao trabalho com as monoculturas.
- V. () O direcionamento dos fluxos migratórios fez com que existisse maior concentração de afrodescendentes nas regiões Sul e Centro-oeste.

Questão 22

O conceito de ‘bônus demográfico’ está ligado ao momento em que uma sociedade possui uma estrutura etária capaz de facilitar o crescimento econômico.

Analise as tendências das curvas ‘somente idosos (65 ou mais)’ e ‘somente crianças (0 a 14)’, a partir de 1960, e as associe com futuras políticas sociais que devem ser implementadas no país, a partir de agora.



Questão 23

O entendimento dos processos sociais envolvidos nos fluxos de pessoas entre países, regiões e continentes passa pelo reconhecimento de que sob a rubrica *migração internacional* estão envolvidos fenômenos distintos, com grupos sociais e implicações diversas. A migração internacional, no contexto da globalização, é inevitável e deve ser entendida como parte das estratégias de sobrevivência, de impulso para alcançar novos horizontes, e a globalização, nesse contexto, age como fator de estímulo.

(Neide L. Patarra. "Migrações internacionais: teorias, políticas e movimentos sociais". *Estudos Avançados*, 2006. Adaptado.)

Explique por que a globalização é um estímulo à migração internacional.

Cite dois aspectos ou "fenômenos distintos" motivadores das migrações.

Questão 24

"O fenômeno da mestiçagem étnica e cultural que compõe a realidade de nossa região desde a origem da colonização povoa nossas cidades, nossas ruas, nossos campos; é uma realidade cotidiana, multiforme e sempre presente que unifica pessoas e formas expressas nas paisagens urbanas e rurais".

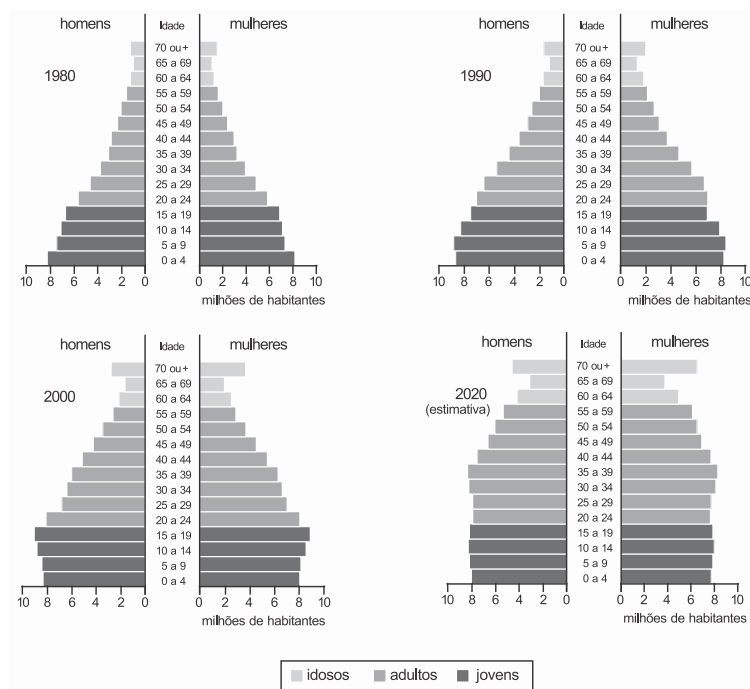
LEMOS, Amália Inês Geraiges "América Latina: à procura de uma Geografia mestiça". In: LEMOS, Amália Inês Geraiges *Questões territoriais na América Latina*. Buenos Aires: CLACSO; São Paulo: USP, 2006.

A migração possibilita a existência do fenômeno citado no texto. Estabeleça a relação, do ponto de vista geográfico, entre migração e mestiçagem étnica e cultural.

Apresente dois exemplos de miscigenação étnica e cultural existentes, atualmente, na América Latina.

Questão 25

Observe, nas pirâmides etárias abaixo, a distribuição da população por sexo e por faixas de idades, apontando transformações na estrutura populacional do Brasil.

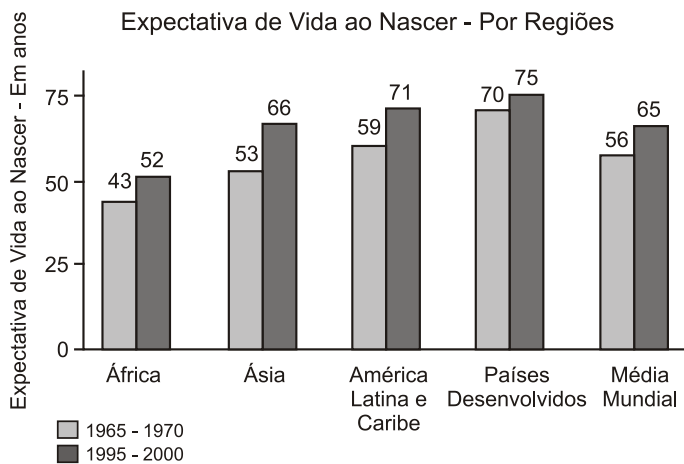


Adaptado de BOLIGIAN, L.; BOLIGIAN, A. T. A. *Geografia, espaço e vivência*. São Paulo: Atual, 2011.

Considerando o período de 1980 a 2020, explique a mudança principal em relação à proporção de jovens e a mudança principal em relação à proporção de idosos na população brasileira.

Questão 26

Observe o gráfico a seguir e responda às questões:



Por que, entre os períodos 1965/1970 e 1995/2000, houve aumento da esperança de vida ao nascer em todas as regiões indicadas no gráfico?

**Basta-me um pequeno gesto,
feito de longe e de leve,
para que venhas comigo
e eu para sempre te leve...
Cecília Meireles**

**CONFIRA SUAS RESPOSTAS
Viviane Moreira
Professora de Geografia**